

<範圍：L3-L4 >

【劃卡代號：51】

班級： 座號： 姓名：

※答案卡限用 2B 鉛筆劃記，答案請劃記明確；若有劃記錯誤，請擦拭乾淨。分數以電腦讀卡分數為準。

一、選擇題：60 分（共 20 題，每題 3 分）

1、() 黃老師在課堂上，提供下列新聞摘要給學生討論：

2001 年 10 月 24 日，張學良病逝於夏威夷檀香山，享年 100 歲。在中共歷史撰寫的「英雄模範」名單中，張學良、楊虎城兩位將領榜上有名，還被稱作中國共產黨「大恩人」、「千古功臣」。晚年的張學良卻稱自己是「罪人中的罪魁」，直接否定了中共的評價。

請問：下列哪一學生對這則新聞摘要的詮釋最為正確？

- (A) 小弘：新聞說明張學良歸順的原因，蔣中正北伐得以成功，所以堪稱是千古功臣
- (B) 阿道：在蔣中正的要求下，張學良前往東北剿共，只是剿共失敗，成為千古罪人
- (C) 大國：因為日本策畫「九一八事變」，張學良加入偽滿州國，成為中國國民黨的敵人
- (D) 中中：張學良發動西安事變，讓中共敗部復活，讓共產黨有機會在之後的國共內戰得勝

2、() 禰豆子參加一場歷史研討會，會中討論的專題是從「滿州國」到「大東亞共榮圈」，日本邁向第二次世界大戰的歷史回饋。請問：禰豆子可能在會議討論的文章中看到右列哪些日本籌謀的行動？

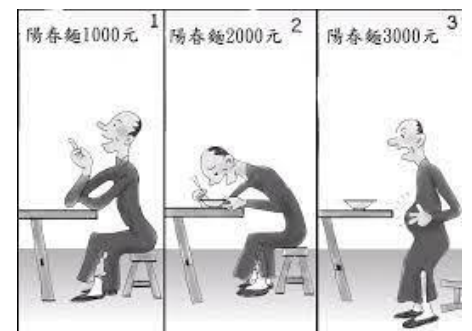
- (A) 甲乙 (B) 丙丁 (C) 甲丙 (D) 乙丙

甲：扶植溥儀在東北成立偽滿州國
乙：對美國紐約發動恐怖的攻擊行動
丙：把臺灣當作南進政策的重要基地
丁：731 部隊研發原子彈對付中國

3、() 中共現任國家主席習近平說：「長征這一驚天動地的革命壯舉，是中國共產黨和紅軍譜寫的壯麗史詩，是中華民族偉大復興歷史進程中的巍峨豐碑。」及「長征是一次理想信念的偉大遠征。崇高的理想，堅定的信念，永遠是中國共產黨人的政治靈魂」。請問中共展開「長征」，是在下列哪個時期？

- (A) 十年建設 (B) 北伐期間 (C) 聯俄容共 (D) 國共內戰

4、() 右圖是諷刺民國 30 年代後期當時通貨膨脹的漫畫，圖中陽春麵的價格，吃飯前與吃飯後漲了三倍，請問：造成當時經濟通貨膨脹，物價飛漲的原因主要為何？



- (A) 抗戰期間，中國物資被中共大量收購
- (B) 抗戰結束後，又陷入國共內戰的結果
- (C) 抗戰期間，國民政府發行法幣導致通貨膨脹
- (D) 抗戰結束後，國民政府將物資大量運往臺灣造成的

5、() 四個日本退役軍人聊起自己國家的戰爭事蹟。請問：這四位日本人的敘述，哪一個事件發生的時間最早？

- (A) 我軍在北京近郊進行演習，與中國守軍爆發衝突
- (B) 我軍必須偷襲美軍在夏威夷的軍事基地，才能稱霸太平洋
- (C) 我軍兩位軍官在南京有進行一個殺人競賽的遊戲
- (D) 我軍炸毀瀋陽的鐵路，藉口是中國軍隊所為，發兵進占東北

6、() 在不同時期，國家社會往往會依據當時面對的困境提出相關之因應策略口號來面對。請依據右列策略口號，排列出當時中國所面對困境之先後順序：

- (A) 1-2-3 (B) 3-2-1 (C) 2-1-3 (D) 2-3-1

策略口號 1：以空間換取時間
策略口號 2：攘外必先安內
策略口號 3：抗日民族統一戰線

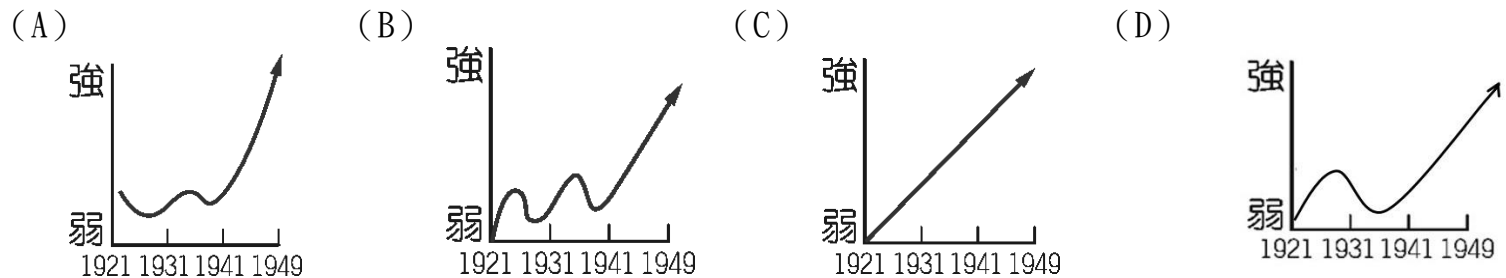
7、() 在某本以近現代中國為背景的小說中寫到：「最近，國家開始實施新政策，由政府指定中央、交通、中國這几家銀行發行法幣。我想，此政策若真能好好實行，改善過去幣制混亂的情況，買賣交易就比較好做了。」這段話所呈現的最可能是中國處於下列何種局勢下情況？

- (A) 聯俄容共期間，廣州國民政府推動經濟改革 (B) 軍閥割據時期，北京政府推行新政
- (C) 北伐統一完成後，國民政府致力建設發展 (D) 八年抗戰後期，政府籌措資金抗日。

8、() 美國羅斯福總統在國會說道：「日本這次沒有正式宣戰，卑鄙的攻擊會永遠承擔不名譽的罪名...美國人民必然獲得最後勝利，我們不單要盡力防衛，更要使這種卑鄙的行為再也無法危及我們...我們將會獲得最後勝利，願上帝保佑。在此本人僅要求國會宣布『參戰』。」請問上述與下列哪一場歷史事件有關？

- (A) 珍珠港事件 (B) 盧溝橋事變 (C) 九一八事變 (D) 南京大屠殺

- 9、() 每年 1 月 11 日是「司法節」，其由來是因為中國與美國、英國簽訂了平等新約，廢除治外法權，讓百年來不平等條約從此完全廢除。請問上述情況是發生在何時？
 (A) 聯俄容共時期 (B) 北伐期間 (C) 十年建設時期 (D) 八年抗戰期間
- 10、() 歷史學者徐澤榮先生曾說過：「十萬名科舉進士奠定了中國古代各朝的基礎，二十萬噸外援炮彈奠定了中共於一九四九年政權的基礎。」請問上述外援炮彈，最有可能是源自哪個國家？
 (A) 蘇聯 (B) 日本 (C) 美國 (D) 德國
- 11、() 以下內容出自於一位臺灣老兵的受訪紀錄：「在那個時代，我先是接受政府徵調當了日本軍，到四川去打仗。」
 「隨著戰爭的結束，我又當了中國兵，跑到東北打共產黨。」
 「但這都不是自己的選擇，是時代的悲哀。」
 這位臺灣老兵所描述的，應是他在下列何時的遭遇？
 (A) 1920 年代 (B) 1930 年代 (C) 1940 年代 (D) 1950 年代
- 12、() 下列哪一個曲線圖，最能表現中共從民國 10 年成立至民國 38 年取得政權期間勢力的消長？



- 13、() 岸治郎查看歷史資料如下：

資料一：為避免共產黨勢力擴大，在上海清除共產黨勢力

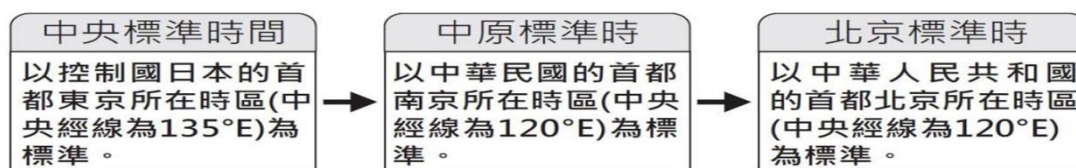
資料二：打擊軍閥勢力，幫助黨派完成中國統一

資料三：受到張學良挾持後，最終同意一致抗日政策

資料四：歷經八年抗戰，提升中國在國際上的地位

此歷史資料封面標題，下列何者最恰當？

- (A) 孫中山的聯俄容共政策 (B) 蔣中正與中國政局變化
 (C) 毛澤東與共產黨勢力崛起 (D) 溥儀與日本的關係發展
- 14、() 十九世紀中葉，《南京條約》中部分原文：「英國商民居住通商之廣州五處，應納進口、出口貨物…等，均宜秉公議定稅則……而路經過稅關不得加重稅例，只可按估價則例若干，每兩加稅不過分。」也就是說英國對中國貿易的關稅不是依照其主權，而是根據條約規定來徵收關稅。請問：此種不平等的協定關稅束縛中國至何時才解除？
 (A) 第一次世界大戰 (B) 北伐期間 (C) 十年建設 (D) 中日戰爭
- 15、() 各地所採用的時區及標準時間名稱，有時會隨著統治政權改變而有所不同。下圖為 20 世紀「某」城市是十餘年間，歷經所屬時區及標準時間名稱的改變。此城市最可能為下列何者？



- (A) 1920~1937 的哈爾濱 (B) 1920~1937 的重慶
 (C) 1937~1950 的瀋陽 (D) 1937~1950 的臺北
- 16、() 弘道國中於 5/28 日校慶三樓校史室展覽下方三則資料，此項展覽的主題，最有可能是下列何者？

臺灣臺北「阿嬤家：和平與女性人權館」
 大稻埕的臺灣慰安婦紀念館，於西元 2016 年 12 月 10 日開幕，2020 年 11 月 10 日閉館。

南韓首爾「分享之家」
 位於郊外的京畿道廣州市，成立於 1992 年 6 月，是一間慰安婦安養機構。

中國南京「利濟巷慰安所」
 以「慰安婦」為主題的紀念館，成立於 2015 年，見證許多慰安婦的血淚歷史。

- (A) 國共內戰期間的臺灣 (B) 太平洋戰爭的爆發 (C) 二戰期間日本的不義 (D) 亞洲軍國主義的興起

臺北市立弘道國民中學 111 學年度第二學期 八年級 歷史科 第二次定期評量

17、() 以下是中國天津某年慶祝元旦的相關報導：「政府要求各機關及各民眾團體，在元旦上午參加慶祝中華民國成立的紀念大會。當晚民眾提燈遍遊街市，高呼『勿忘國恥』、『抵制日貨』、『攘外必先安內』、『打倒燒香化紙、磕頭拜年的惡習』等口號。各街市商號張貼標語、懸燈結綵，國民黨黨旗和國旗飄揚天際，蔚為盛況。」上述內容最可能是描繪下列何時的景象？

- (A) 1928~1937 年十年建設期間 (B) 1937~1945 年中日戰爭時期
(C) 1945~1949 年國共內戰時間 (D) 1926~1928 年北伐運動時期

放假日期	放假事由及天數
1/1	中華民國開國紀念·放假一天
1/2-1/3	新年·放假二天
3/12	孫中山逝世紀念·放假一天
3/29	黃花崗七十二烈士殉國紀念·放假一天
10/10	中華民國國慶紀念·放假一天
11/12	孫中山誕辰紀念·放假一天

18、() 右表為某一時期官方所頒行機關學校放假日期的部分內容，根據內容判斷，此一日程最可能由下列何者所頒行？

- (A) 1929 年的南京國民政府
(B) 1949 年的北京共產政府
(C) 1912 年的北京臨時政府
(D) 1945 年的台北總督政府

19、() 王同學準備段考複習時，針對國共關係演變整理如下表。但「結果」欄位遲遲無法完成，留下了四個問號。請協助他由上到下依序排列，以利衝刺段考：

時間	關係	影響	結果
民國12~16年	聯俄容共	國民政府受到共產黨控制	?
民國16~26年	剿匪	引發部分軍民不滿	?
民國26~34年	全面抗戰	共產黨趁機壯大勢力	?
民國34~38年	動員戡亂	國共內戰大規模爆發	?

甲、中華民國政府播遷來臺；
乙、張學良發動西安事變；
丙、蔣中正發動清黨，另行成立南京國民政府；
丁、國共雙方為了爭奪日軍占領區，爆發多次軍事衝突

- (A) 甲乙丙丁 (B) 丙乙甲丁 (C) 甲丁乙丙 (D) 丙乙丁甲

20、() 學界雖對這項國際會議仍有討論，不過國民政府在會議上取得美國總統羅斯福的支持。遂於會議的次年，設立了臺灣調查委員會，進行接收臺灣的準備工作，這也是國民政府對臺政策轉趨積極的重要開端。請問：這項國際會議，最有可能是下列何者？

- (A) 巴黎和會 (B) 馬關會議 (C) 開羅會議 (D) 雅爾達會議

二、題組：40 分（共 10 題，每題 4 分）

(一) 林老師在課堂上展示與抗日戰爭有關的三張郵票，請觀察後回答第 21 至 22 題：



21、() 哪張郵票是為了紀念中華民國政府國際地位獲得提升、解除不平等條約而發行的？
(A) 甲 (B) 乙 (C) 丙 (D) 以上皆是

22、() 三張郵票按照主題史事發生順序的排列為何？
(A) 甲乙丙 (B) 乙甲丙 (C) 甲丙乙 (D) 乙丙甲

(二)、中國國民黨即將展開黨主席改選，中國國民黨黨主席是中華民國政黨中國國民黨的最高領導人，現任主席是朱立倫先生。黨主席自 2001 年起由國民黨全體黨員直選。《黨章》第 19 條規定「主席之任期為四年，連選得連任一次。」最近一次選舉為 2020 年黨主席補選。中國國民黨將會長職位永久保留予首任會長楊衢雲，總理職位永久保留首任總理孫中山，而總裁職位永久保留予首任總裁蔣中正…

(註：國民黨於 1914 年改組為中華革命黨；1919 年定名為中國國民黨至今)。請回答第 23 至 24 題：

23、() 請問中國國民黨在哪一時期曾實行「以黨治國」體制，招致許多批評？
(A) 北伐期間 (B) 十年建設 (C) 中日戰爭 (D) 國共內戰

24、() 國民黨與共產黨之間的分分合合，請問：國共第一次合作的開端與第一次決裂各始於何人的決策？
(A) 孫中山、蔣中正 (B) 孫中山、毛澤東 (C) 張學良、蔣中正 (D) 孫中山、張學良

(三) 閱讀下列資料內容，回答第 25 至 26 題問題：

弘道出版社正在編寫《民國 20 年大史事》，黃主編收錄兩則電報發文史料：

史料一：我方以日軍在北大營（東北軍營）等處演習示威，行動異常，偶一不慎，深恐釀成事端，曾經通令各軍，遇到日軍尋釁，務必避免衝突

史料二：無論日本軍隊此後如何在東北尋釁，我方要堅守先安內後攘外政策，力避衝突，吾兄萬勿逞一時之憤，置國家民族於不顧。

- 25、() 根據史料一與史料二判斷，以下分析何者最符合史實？
 (A) 史料一「日軍尋釁」應指「盧溝橋事變」 (B) 蔣中正決定全面抗戰，於是頒布此兩則發文
 (C) 此為蔣中正北伐時期，謀求統一所發表 (D) 史料二應是蔣中正發給張學良的電報發文
- 26、() 根據兩則史料的内容判斷，中國日後情勢如何發展？
 (A) 東北淪陷，日本於東北成立滿州國 (B) 中國進入全面對日抗戰階段
 (C) 日本攻佔德國在中國的租借地山東 (D) 中國各階級響應抵制日貨行動

(四) 依據下方五則插畫，回答第 27 至 30 題問題：



- 27、() 五則插圖內容是國民政府時期所發生的事件，請依發生時間先後順序，排序為何？：

(A) 甲乙丙丁戊 (B) 乙丙丁戊甲 (C) 丙乙甲丁戊 (D) 乙丙甲丁戊

- 28、() 根據右圖來分中日戰爭前、後期兩階段，前後期的分野關鍵戰役是哪一場戰役？

(A) 乙 (B) 丙 (C) 丁 (D) 戊



- 29、() 清末至北伐完成期間，美國派第十五步兵團駐守天津附近，十五步兵團也介入中國內戰，避免動亂影響美國利益，也間接保護天津民眾的安全。後來當日本在今日北京附近發動侵華軍事行動，與中國爆發全面戰爭，美國不願捲入戰局，因此決定撤離第十五步兵團，結束多年的派駐。上述「侵華軍事行動」，是指哪一場戰役？

(A) 乙 (B) 丙 (C) 丁 (D) 戊

- 30、() 八年抗戰前，中共為了解除來自國民政府的威脅，提出「自己人不打自己人」、「停止內戰一致抗日」等口號，影響當時擔任西北剿共主力的指揮官，由該軍官發動軍變，改變日後政局的發展。上述情況的發生，與下列何者關係最密切？

(A) 甲 (B) 乙 (C) 丙 (D) 丁